

Prénom .....

/ Date .....

## Les panneaux du code de la route




1 ) Les panneaux triangulaires rouges et blancs signalent **un danger**.




2 ) Les panneaux circulaires ou octogonaux (8 cotés) rouges et blancs indiquent **une interdiction**.



3 ) Les panneaux circulaires bleus et blancs imposent **une obligation**.





4 ) Les panneaux rectangulaires, carrés ou en losange, bleus, blancs ou noirs donnent un lieu, **une indication**.



5 ) Les panneaux rectangulaires, carrés, en losange ou biseautés (flèches), bleus, blancs, noirs et verts donnent une direction, **une indication**.

Indique la fonction de chaque panneau : **Danger - Interdiction - Obligation - Indication**.



Prénom ..... / Date .....



# Les panneaux du code de la route

Indique précisément la fonction de chaque panneau.



Prénom ..... / Date .....

## Les panneaux du code de la route

Réponse



Interdiction de rouler en vélo.



Attention danger. Il y a des vaches.



Obligation pour les piétons de prendre le chemin.



Interdiction de rouler à plus de 50 km à l'heure.



Attention danger. Il y a des avions tout près.



Obligation de rouler sur la route indiquée.



Panneaux indiquant la direction de villes.



Interdiction de circuler en moto.